
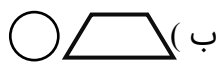




مقیاس	شرح سوالات
<input type="radio"/> خیلی خوب <input type="radio"/> خوب <input type="radio"/> قابل قبول <input type="radio"/> نیاز به تلاش بیشتر	<p><b>الف: صحیح و غلط بودن عبارات زیر را با علامت ( × ) مشخص کنید.</b></p> <p>۱- پنجمین مضرب شش، عدد ۳۰ است. <input type="radio"/> ص <input type="radio"/> غ</p> <p>۲- متمم زاویه ی ۲۵ درجه ، ۱۵۵ درجه می باشد. <input type="radio"/> ص <input type="radio"/> غ</p> <p>۳- حاصلضرب ( <math>100 \times 0/408</math> ) عدد <math>4/08</math> می شود. <input type="radio"/> ص <input type="radio"/> غ</p> <p>۴- حاصل جمع یک عدد زوج با یک عدد فرد ، حتماً عددی فرد است. <input type="radio"/> ص <input type="radio"/> غ</p>
<input type="radio"/> خیلی خوب <input type="radio"/> خوب <input type="radio"/> قابل قبول <input type="radio"/> نیاز به تلاش بیشتر	<p><b>ب: پاسخ صحیح را با علامت ( × ) مشخص کنید.</b></p> <p>۵- زاویه بین عقربه های ساعت ، در ساعت ۳:۰۰ چند درجه می باشد؟  <input type="radio"/> الف ( <math>180^\circ</math> ) <input type="radio"/> ب ( <math>90^\circ</math> ) <input type="radio"/> ج ( <math>45^\circ</math> ) <input type="radio"/> د ( <math>270^\circ</math> )</p> <p>۶- کدام یک از شکل های زیر ، دارای تقارن چرخشی است؟  <input type="radio"/> الف (  ) <input type="radio"/> ب (  ) <input type="radio"/> ج (  ) <input type="radio"/> د (  )</p> <p>۷- واحد استاندارد ، برای اندازه گیری مساحت زمین های کشاورزی کدام است؟  <input type="radio"/> الف ( کیلومتر مربع ) <input type="radio"/> ب ( متر ) <input type="radio"/> ج ( هکتار ) <input type="radio"/> د ( کیلومتر )</p> <p>۸- کدام یک از اعداد زیر ، بر ۹ بخشپذیر است؟  <input type="radio"/> الف ( ۱۹ ) <input type="radio"/> ب ( ۳۳ ) <input type="radio"/> ج ( ۴۵ ) <input type="radio"/> د ( ۹۲ )</p>
<input type="radio"/> خیلی خوب <input type="radio"/> خوب <input type="radio"/> قابل قبول <input type="radio"/> نیاز به تلاش بیشتر	<p><b>پ: جاهای خالی را با کلمات و اعداد مناسب کامل کنید.</b></p> <p>۹- بزرگترین عدد صحیح منفی، عدد ..... است.</p> <p>۱۰- کوچکترین مخرج مشترک دو کسر <math>\frac{3}{6}</math> و <math>\frac{5}{8}</math> عدد ..... است.</p> <p>۱۱- در پرتاب سکه، احتمال رو آمدن سکه ..... درصد است.</p> <p>۱۲- ۵۶ متر ..... سانتی متر است</p>

ت: به پرسش های زیر پاسخ دهید.

۱۳- عدد زیر را با تقریب های خواسته شده، در جای خالی بنویسید.

۸۶۹/۳۷۴

با تقریب کمتر از ۰/۰۱

قطع کردن

با تقریب کمتر از ۱۰

گرد کردن

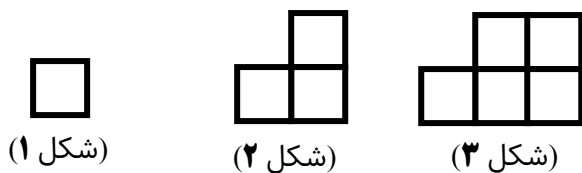
- خیلی خوب
- خوب
- قابل قبول
- نیاز به تلاش بیشتر

۱۴- تقسیم مقابل را تا دو رقم اعشار در خارج قسمت ادامه دهید.

$$737/5 \overline{) 4}$$

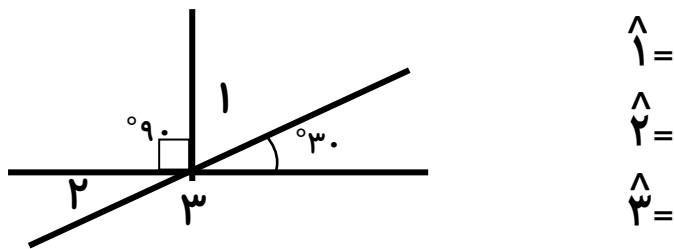
- خیلی خوب
- خوب
- قابل قبول
- نیاز به تلاش بیشتر

۱۵- در الگوی زیر شکل بیستم از چند مربع تشکیل شده است؟



- خیلی خوب
- خوب
- قابل قبول
- نیاز به تلاش بیشتر

۱۶- با توجه به شکل اندازه زاویه های خواسته شده را به دست آورید.



- خیلی خوب
- خوب
- قابل قبول
- نیاز به تلاش بیشتر

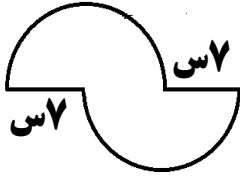
۱۷- حاصل عبارت های زیر را به دست آورید.

الف)  $24 - 10 \times 2 + 8/3 =$

ب) 
$$\frac{1\frac{3}{4}}{\frac{2}{3} \times \frac{6}{8}} =$$

- خیلی خوب
- خوب
- قابل قبول
- نیاز به تلاش بیشتر

۱۸- مساحت شکل زیر را به دست آورید. ( عدد پی را ۳ در نظر بگیرید.)



- خیلی خوب
- خوب
- قابل قبول
- نیاز به تلاش بیشتر

۱۹- ۸ کیلو پسته را در بسته های کسر  $\frac{1}{4}$  کیلوگرمی بسته بندی کردیم. تعداد بسته ها چند تا است؟

- خیلی خوب
- خوب
- قابل قبول
- نیاز به تلاش بیشتر

۲۰- فروشنده ای کالایی را با ۲۰% تخفیف می فروشد. اگر قیمت اولیه کالا ۶۰۰۰۰ تومان باشد، فروشنده این کالا را چند تومان فروخته است؟

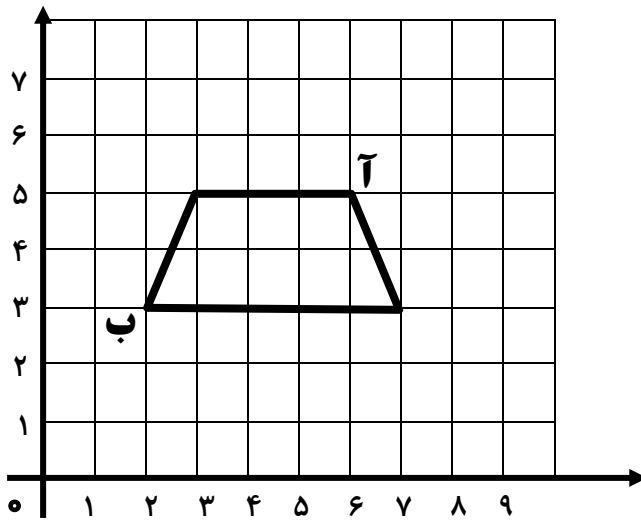
- خیلی خوب
- خوب
- قابل قبول
- نیاز به تلاش بیشتر

۲۱- با توجه به شکل به سوالات زیر پاسخ دهید.

$$\text{الف: } \left( \quad \right) \quad \text{ب: } \left( \quad \right)$$

الف ( مختصات نقاط (آ) و (ب) را بنویسید.

ب ( مساحت شکل را به دست آورید.



- خیلی خوب
- خوب
- قابل قبول
- نیاز به تلاش بیشتر

جملاتی آموزنده از امام علی (ع): بخشنده باش اما زیاده روی نکن ، در زندگی حسابگر باش ، اما سخت گیر مباش.



مقیاس نهایی	خیلی خوب <input type="radio"/> خوب <input type="radio"/> قابل قبول <input type="radio"/> نیاز به تلاش بیشتر <input type="radio"/>
توصیف وضعیت عملکرد دانش آموز با توجه به اهداف مشخص شده:	..... ..... ..... .....